





# FICHAS PARA PRIMARIA

## TERCERO GEOMETRIA



# Segmentos: Estimación y Medida Usando el Centímetro




La regla, la escuadra, el cartabón y el transportador forman parte del juego de reglas que sirven tanto para medir como para trazar líneas. Pero el significado más antiguo de reglas es «tirar o hacer líneas o rayas derechas, valiéndose de una regla o por cualquier otro medio».

En la regla, tanto de 20 como de 30 cm, cada cm está dividido en mm.

**Observa con mucha atención:**

Por ejemplo; entre 12 cm y 13 cm hay 10 mm.





## Actividades

- 1 Estima la medida del segmento AB en cm. Luego, mide el segmento AB con ayuda de la regla.

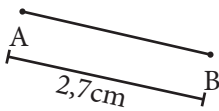


Estimación: 3 cm

Medida: 2,7 cm

**Resolución:**

Usando la regla de 20 cm medimos  $\overline{AB}$ .



Rpta.: 2,7 cm

- 2 Estima la medida del segmento AB en cm y, luego, mide el segmento AB con ayuda de la regla.



Estimación: \_\_\_\_ cm

Medida: \_\_\_\_ cm

- 3 Estima la medida del segmento AB en cm y, luego, mide el segmento AB con ayuda de la regla.



Estimación: \_\_\_\_ cm


Medida: \_\_\_\_ cm

- 4 Estima la medida del segmento AB en cm y, luego, mide el segmento AB con ayuda de la regla.



Estimación: \_\_\_\_ cm

Medida: \_\_\_\_ cm



## Exigimos más

- 5 Estima la medida del segmento AB en cm y, luego, mide el segmento AB con ayuda de la regla.

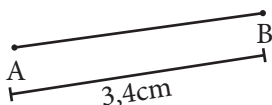


Estimación: 5 cm

Medida: 3,4 cm

**Resolución:**

Usando la regla de 20 cm medimos  $\overline{AB}$ .



- 6 Estima la medida del segmento AB en cm y, luego, mide el segmento AB con ayuda de la regla.

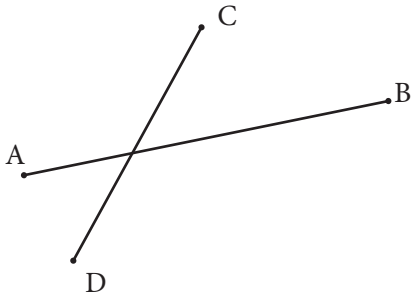


Estimación: \_\_\_\_\_ cm

Medida: \_\_\_\_\_ cm



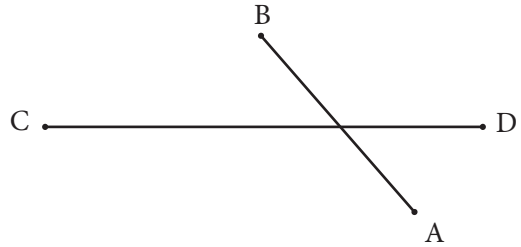
- 7 Estima la medida del segmento CD en cm y, luego, mide el segmento CD con ayuda de la regla.



Estimación: \_\_\_\_\_ cm

Medida: \_\_\_\_\_ cm

- 8 Estima la medida del segmento AB en cm y, luego, mide el segmento AB con ayuda de la regla.



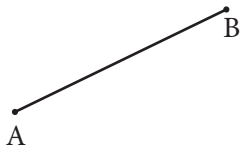
Estimación: \_\_\_\_\_ cm

Medida: \_\_\_\_\_ cm



## Demuestro mis habilidades

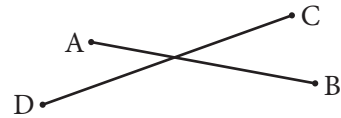
- 9 Estima la medida del segmento AB en cm y, luego, mide el segmento AB con ayuda de la regla.



Estimación: \_\_\_\_\_ cm

Medida: \_\_\_\_\_ cm

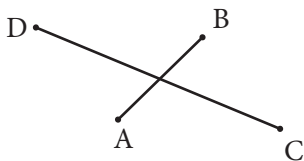
- 11 Estima la medida del segmento AB en cm y, luego, mide el segmento AB con ayuda de la regla.



Estimación: \_\_\_\_\_ cm

Medida: \_\_\_\_\_ cm

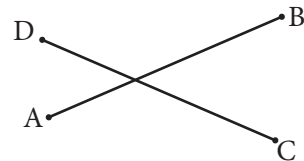
- 10 Estima la medida del segmento CD en cm y, luego, mide el segmento CD con ayuda de la regla.



Estimación: \_\_\_\_\_ cm

Medida: \_\_\_\_\_ cm

- 12 Estima la medida del segmento CD en cm y, luego, mide el segmento CD con ayuda de la regla.



Estimación: \_\_\_\_\_ cm

Medida: \_\_\_\_\_ cm